

1º

ENSINO FUNDAMENTAL I - ANOS INICIAIS | 1º ANO Turma:

Escola:

Aluno:

CADERNO DE ATIVIDADES REMOTAS


# Anos Iniciais

Semana 17



## Dia da Família

08 de dezembro



ESCOLA  
em casa



PREFEITURA DE  
**GUAMARÉ**  
TRABALHANDO POR VOCÊ

SECRETARIA DE  
**EDUCAÇÃO**

Estudantes queridos, família é importante atribuímos às dificuldades momentos de superação. Neste período de pandemia, o distanciamento social é a melhor recomendação. Nós enquanto equipe educadora precisamos manter o elo e, com essa união fortalecermos o vínculo, boa relação, estreitamento dos conteúdos já trabalhados - quando iniciamos o ano letivo.

Foram dias de planejamento reservados para a construção do álbum de atividades que irá atender a necessidade pontual - atividades possíveis de realização. A sequência didática dará o norte de como mediá-las, sigam o passo-a-passo. Nessa maratona, o 1º lugar estará reservado para todos.

Receba nosso carinho, abraço virtual. Fique em casa - sigam as recomendações do ministério da saúde.

Enviando abraço virtual...



**COMPLETO!**



**ORIENTAÇÃO AOS RESPONSÁVEIS**

Esta atividade deverá ser realizada de acordo com os pontos abaixo:

- 1- MARCAR COM UM X AS CÉDULAS E MOEDAS QUE REPRESENTAM AS DESPESAS DOS BRINQUEDOS DE JOÃO.
- 2- ESCREVER POR EXTENSO OS VALORES DAS CÉDULAS NA LINHA AO LADO:
- 3- ATIVIDADE DO LIVRO DE MATEMÁTICA UNIDADE 3 (PÁGINAS 60 Á 61)



**PLANEJAR GASTOS**

1- OBSERVEM NO QUADRO ABAIXO OS BRINQUEDOS QUE JOÃO COMPROU DURANTE O MÊS.

DESPESAS	VALORES
PATINS 	50,00
BONECO 	10, 00
CARRO 	5,00
BOLA DE GUDE 	3,25

MARQUE COM UM X AS CÉDULAS E MOEDAS QUE REPRESENTAM AS DESPESAS TOTAIS DOS BRINQUEDOS DE JOÃO.



**2- ESCREVA POR EXTENSO OS VALORES DAS CÉDULAS ABAIXO:**



\_\_\_\_\_



\_\_\_\_\_



\_\_\_\_\_



\_\_\_\_\_

### ORIENTAÇÃO AOS RESPONSÁVEIS

Esta atividade deverá ser realizada de acordo com os pontos abaixo:

- 1- COMPLETAR COM AS PALAVRAS QUE ESTÃO FALTANDO.
- 2- ATIVIDADE DO LIVRO DE PORTUGUÊS UNIDADE 9 (PÁGINA 111)
- 3- LER AS PALAVRAS DA FICHA DE LEITURA ABAIXO E PINTAR AS QUE REPRESENTAM O CONSUMO CONSCIENTE.



.....

### 1- COMPLETE COM AS PALAVRAS QUE ESTÃO FALTANDO.

**QUEM POUPA AGORA  
NO FUTURO  
TEM A GANHAR!**

QUEM \_\_\_\_\_ AGORA  
NO \_\_\_\_\_ TEM A \_\_\_\_\_ !

**O CONSUMO NÃO DEVE SER  
A ÚNICA FINALIDADE DA  
PRODUÇÃO.**

O \_\_\_\_\_ NÃO DEVE SER  
A ÚNICA \_\_\_\_\_ DA PRODUÇÃO.

2- LEIA AS PALAVRAS DA FICHA DE LEITURA ABAIXO E PINTE AS QUE REPRESENTAM O CONSUMO CONSCIENTE.

ECONOMIZAR	POUPAR	PIPOCA
VALORIZAR	PESQUISAR	REAPROVEITAR
PLANEJAR	CAPA	CABELOS
BOLA	REDUZIR	GASTAR

Apresente o vídeo sobre os impactos do consumo, acesse:  
[https://www.youtube.com/watch?time\\_continue=120&v=HVu\\_d0NZfNc](https://www.youtube.com/watch?time_continue=120&v=HVu_d0NZfNc)

### ORIENTAÇÃO AOS RESPONSÁVEIS

Esta atividade deverá ser realizada de acordo com os pontos abaixo:

- 1- LER O TEXTO E RESPONDER AS PERGUNTAS ABAIXO.
- 2- ESCREVER 4 NOMES DOS PRODUTOS COM MENOR PREÇO NO QUADRO ABAIXO.

.....

### 1- LEIA O TEXTO E RESPONDA AS PERGUNTAS ABAIXO:

EU  ÁGUA

QUEM AMA, CUIDA.

ECONOMIZAR HOJE, PARA TODOS TEREM,

EM TODOS OS LUGARES, PARA SEMPRE.

O TEXTO ALERTA PARA:

- ( ) A IMPORTÂNCIA DAS PLANTAS.
- ( ) A FORMA CORRETA DE DESCARTAR O LIXO.
- ( ) A IMPORTÂNCIA DE ECONOMIZAR A ÁGUA

NO TRECHO:

EU  ÁGUA. O QUE SIGNIFICA O SÍMBOLO UTILIZADO?

- ( ) CUIDO
- ( ) AMO
- ( ) ECONOMIZO.

2- NO PANFLETO ABAIXO ESCREVA 4 NOMES DOS PRODUTOS COM MENOR PREÇO.

**Dia % ECONOMIA DE VERDADE**

**SELEÇÃO DA ECONOMIA**  
CLIQUE PARA VER SE O SEU SACO DE FEIJÃO TEM O MELHOR PREÇO DO DIA.

**2 DIAS**  
OFERTA ESPECIAL DE 12 A 15/7/2018

**4 DIAS**  
OFERTA ESPECIAL DE 12 A 15/7/2018

**7 DIAS**  
OFERTA ESPECIAL DE 12 A 15/7/2018

Item	Preço Original	Preço Especial
Café	3,99	2,69
Óleo	12,99	9,99
Detergente	11,99	10,90
Feijão	15,99	13,99
Açúcar	14,99	1,55
Farinha	14,99	10,49
Óleo	3,99	2,69
Óleo	2,99	2,69
Óleo	6,89	6,89
Óleo	1,99	1,09
Óleo	10,99	9,99
Óleo	6,79	6,79
Óleo	40%	40%
Óleo	3,99	3,49
Óleo	24,99	18,74
Óleo	6,44	1,17

**ORIENTAÇÃO AOS RESPONSÁVEIS**

Esta atividade deverá ser realizada de acordo com os pontos abaixo:

- 1- RESPONDER AS PERGUNTAS ABAIXO.
- 2- ATIVIDADES DO LIVRO DE GEOGRAFIA UNIDADE 4 (PÁGINAS 80 A 81)



**1- VAMOS CUIDAR DO MEIO AMBIENTE...**

MIGUEL REUNIU ALGUNS LIXOS RECICLÁVEIS QUE ENCONTROU EM SUA CASA E AGORA DEVE COLOCÁ-LOS NO RECIPIENTE CORRETO. PINTE DE AMARELO O METAL, VERDE VIDRO, AZUL PAPEL, VERMELHO PLÁSTICO. EM SEGUIDA LEIA OS NOMES DOS ITENS QUE ELE RECOLHEU E ESCREVA NO LUGAR CORRETO.

REVISTAS - LATA DE REFRIGERANTE - LATA DE SARDINHA - JORNAL -  
GARRAFA DE ÁGUA - PEÇAS DE LEGO - PAPELÃO - LATA DE MOLHO -  
CACOS DE COPO - POTE DE ÁLCOOL - CADERNO - GARRAFA PET



METAL

Four horizontal lines for writing.



PAPEL

Four horizontal lines for writing.



PLÁSTICO

Four horizontal lines for writing.



VIDRO

Four horizontal lines for writing.



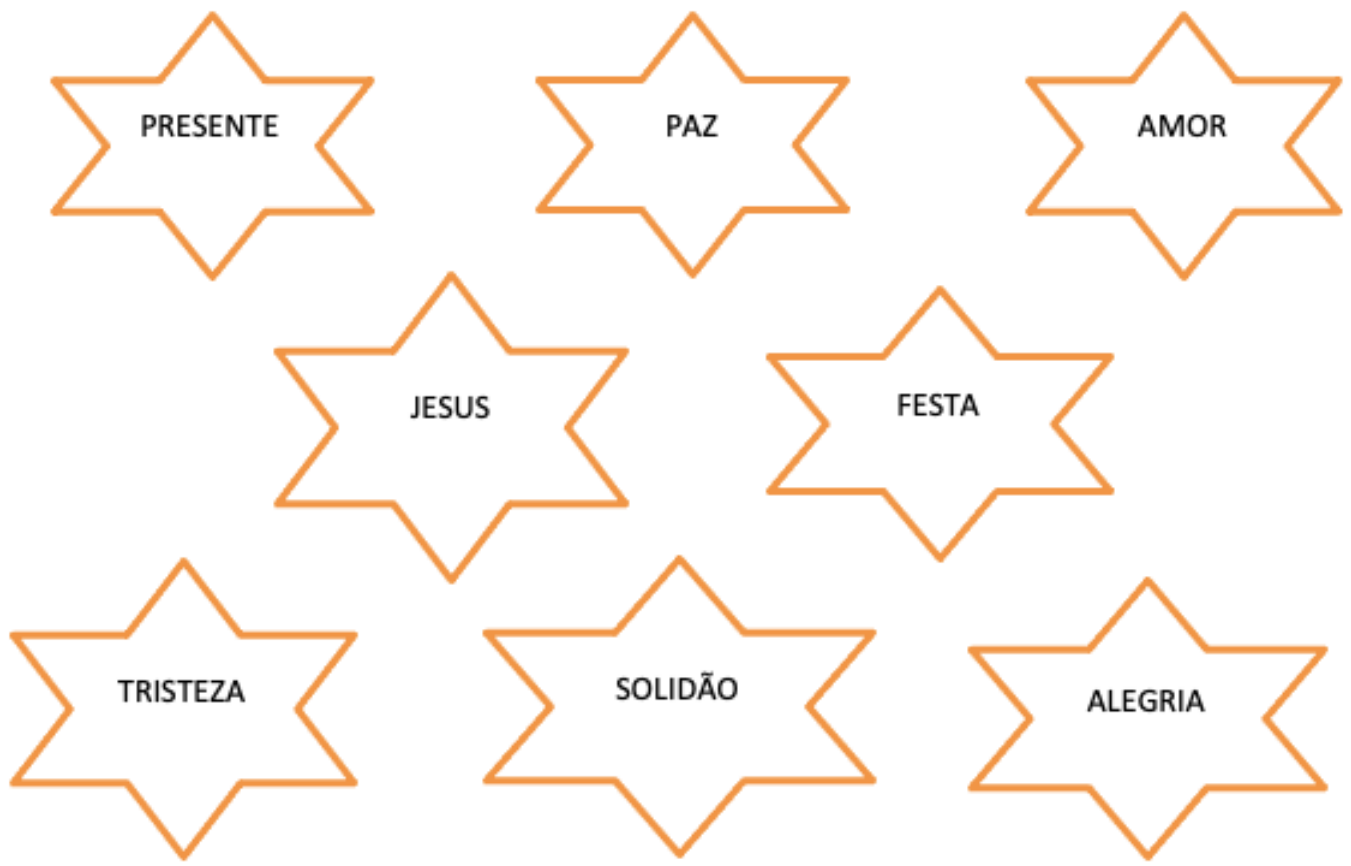
**ORIENTAÇÃO AOS RESPONSÁVEIS**

Esta atividade deverá ser realizada de acordo com os pontos abaixo:

- 1- PINTAR AS PALAVRAS QUE REPRESENTAM O SENTIDO DO NATAL PARA VOCÊ.
- 2- COLORIR A ARVÓRE DE NATAL BEM BONITA...

.....

**1- PINTAR AS PALAVRAS QUE REPRESENTA O SENTIDO DO NATAL PARA VOCÊ**



2- VAMOS COLORIR A ARVÓRE DE NATAL BEM BONITA...







PREFEITURA DE  
**GUAMARÉ**  
TRABALHANDO POR VOCÊ

SECRETARIA DE  
**EDUCAÇÃO**

**Responsáveis pela elaboração das atividades**


.....

Daliene Patrícia Ribeiro de Araújo

Maria Gorete H. Ferreira

Wivina Dayane do Nascimento





PREFEITURA DE  
**GUAMARÉ**

SECRETARIA DE  
**EDUCAÇÃO**

