

6º

ENSINO FUNDAMENTAL II - ANOS FINAIS | 6º ANO Turma:

Escola:

Aluno:

CADERNO DE ATIVIDADES REMOTAS

SEMANA

19

Anos Finais

conheça
algumas
das medidas
preventivas
do protocolo
de retorno
das aulas
presenciais

**uso obrigatório
de máscaras**




**higienização
das mãos** com detergente
ou álcool 70%



**verificação de
temperatura**



**manter o
distanciamento
social** mínimo de 1,5m



ESCOLA
em casa



PREFEITURA DE
GUAMARÉ
TRABALHANDO POR VOCÊ

SECRETARIA DE
EDUCAÇÃO

ORIENTAÇÕES

Essa atividade deverá ser realizada de acordo com os pontos abaixo:

- Preencher o cabeçalho;
- Ler o texto;
- Responder a atividade.

.....

VAMOS CONHECER MELHOR? A CULTURA POPULAR DO RIO GRANDE DO NORTE

A influência da diversidade cultural está presente nos eventos populares e no folclore norte-rio-grandense, que vai de procissões a vaquejadas, e de danças típicas como forró, quadrilhas estilizadas e Bumba meu boi. Cantadores de viola, cordelistas, repentistas, emboladores e grupos de dança que recontam a história do povo potiguar é a presença mais marcante desta cultura, que é uma das mais ricas do Nordeste.

A religião predominante é a católica. A religião protestante evangélica também tem destaque aqui no Rio Grande do Norte. O percentual de evangélicos no Brasil é: 6.49% maior que o percentual no RN, mas podemos encontrar outras religiões como: espiritismo, umbanda, candomblé, quimbanda.

A semana Santa é uma tradição, que se faz presente na forma de um retiro espiritual, inicia-se no período da quaresma, que suas relações eram de valorização a vida. Para uns a tradição continua imutável, mais para a maioria da população desse mundo pós-moderno as demandas são outras, pois o desejo de ter e o de ser falam mais alto.

Em Mossoró, quando vai se aproximando o São João, já é tradição, acontecem vários festejos como: Mossoró cidade Junina que recebe bandas, quadrilhas, pessoas se deslocam de vários lugares para reverenciar os festejos de Mossoró. O reisado, ou folia de reis é um espetáculo popular das festas de natal e reis, cujo palco é a praça pública, a rua.

Garrafinhas de Tibau: As areias são retiradas das dunas, que estão bem à vista, diante da praia. São areias siltosas, às vezes argilosas, impregnadas de sais de ferro. Encontram-se também areias com minerais pesados (biotita, iemenita,

etc.), que são as de cores escuras. Suas variedades de cores são impressionantes, subindo a vinte e cinco tonalidades.

Barcos de Santos Reis: Esses barcos são fabricados de papel seda em diversas cores, colado sobre uma armação de palitos de coqueiro. Seu interior, interior tradicionalmente recheado de castanhas, farinha de amendoim e outros produtos semelhantes, hoje transporta uma carga de confeitos.

Rendas de bilro: As rendas de bilro que são utilizadas para adornar enxovais e saídas de banho são como símbolos para o artesanato local. Já se observa o uso de novas técnicas buscando atender as tendências da moda e da arquitetura através da decoração de peças de roupas e de ambientes rústicos.

Festas de padroeiro - As festas de padroeiro são uma forte evidência da mescla entre a religião e a cultura popular no Brasil. As de Sant'Ana (Caicó), Santa Luzia (Mossoró), santos Reis (Natal) e Nossa senhora dos navegantes (Areia Branca) são algumas das mais conhecidas do Estado.

Festas Juninas - Santo Antônio, São João e São Pedro, três dos santos católicos mais populares no Nordeste, regem o ciclo festivo que esquenta a região em junho/julho. Coincide com a nossa colheita de grãos. É um dos principais eventos da nossa cultura, celebrado com canjicas, pamonha, forró, quadrilha.

Forró é uma festa popular brasileira, de origem nordestina e é a dança praticada nessas festas, conhecida também por arrasta-pé, bate-chinela, fobó, forrobodó. No forró, vários ritmos musicais daquela região, como baião, a quadrilha, o xaxado, que tem influências holandesas e o xote, que veio de Portugal.

Araruna - O Araruna, Sociedade de Danças Antigas e Semidesaparecidas, existem em Natal, desde 1956, e representa um repertório coreográfico de danças folclóricas ou folclorizadas.

Coco, Babelô, Maneiro-Pau - São danças de roda em que não há qualquer enredo dramatizado, das quais o público pode participar, já que não é exigida uma indumentária padronizada, ao contrário dos autos.

Bandeirinhas - Dança característica do ciclo junino. As pastoras cantam jornadas em louvor a São João Batista.

Esponção - Dança característica da festa dos negros, na região do Seridó, durante a coroação de reis e rainhas, na Festa de Nossa Senhora do Rosário, em Caicó, Parelhas e Jardim do Seridó.

Ritos: apresentam nos dias atuais, fórmulas originais, que alcançam as mais diversas classes sociais. Ocorre quando uma criança nasce o pai convida os amigos para "beber o mijo do menino", uma festinha em que a cerveja rola solta.

Lendas: Cada vila ou cidade tem suas próprias histórias que são transformadas

em lendas. Transmitidas oralmente e nascidas de uma anedota ou de uma criação imaginária criam uma história de conteúdo sombrio e místico.

Lendas de Natal: Papa figo, lobisomem, boitatá, curupira etc.

Contos populares do RN: O principal autor do conto popular é Câmara Cascudo.

Disponível em: <http://www.jornalfolharegional.com.br/cultura-popular-do-rio-grande-do-norte-e-umas-das-mais-ricas-do-nordeste-aponta-portal-educacao/>

Agora é a sua vez de responder aos questionamentos!

1) Coloque V para as alternativas verdadeiras e F para as alternativas falsas.

- () O forró é uma festa popular brasileira, de origem nordestina.
- () O reisado, ou folia de reis é um espetáculo popular das festas juninas e reis.
- () Câmara Cascudo é considerado o principal autor do conto popular.
- () São consideradas lendas de Natal: Papa figo, lobisomem, boitatá e curupira.
- () Santo Antônio, São João e São Pedro, três dos santos católicos mais populares no Norte.
- () Espontão é uma dança característica da festa dos negros, na região do Seridó.

2) Qual o tema principal do texto lido?

3) Dê exemplos de danças populares presentes no estado do Rio Grande do Norte, conforme é citado no informativo.

4) Que religião é predominante na cultura norte-rio-grandense?

5) Quais ritmos musicais são formados por meio do forró?

6) Qual a finalidade das rendas de bilro?

7) Que lugar do Rio Grande do Norte é considerada a cidade junina?

8) Quem é Câmara Cascudo segundo o texto acima?

9) Responda as questões a seguir com informações sobre o local que você mora.

a) Nome do lugar: _____

b) Nome do estado: _____

c) Festa tradicional: _____

d) Lenda popular: _____

e) Religião que mais se destaca: _____

f) Nome de um artesanato local: _____

g) Elabore uma descrição de como é o seu lugar: _____


10) Encaixe os nomes abaixo nas respectivas imagens sobre a cultura do Rio Grande do Norte.

A - Festa Junina

B - Rendas de bilro

C C - Forró

D D - Câmara Cascudo



ORIENTAÇÕES

Essa atividade deverá ser realizada de acordo com os pontos abaixo:

- Preencher o cabeçalho;
- Ler o texto;
- Responder a atividade.

.....

Sejam bem vindos a nossa 19ª semana de atividades remotas, e nesta semana vamos dar continuidade ao nosso conteúdo sobre fração, e nessa semana em especial vamos compreender um pouco sobre Fração equivalente.

Não esqueça que : **“FRAÇÃO É O CONJUNTO DE DOIS NÚMEROS QUE, SEPARADOS POR UM TRAÇO HORIZONTAL, EXPRESSAM UMA GRANDEZA COM O AUXÍLIO DE UMA OUTRA DA MESMA ESPÉCIE.”**

Antes disso vamos entender o que significa equivalente? Equivalente é algo que tem igual valor, força, peso etc.

Vamos a um exemplo: suponha que você tem 5 notas de 2,00, neste caso você tem R\$ 10,00 e suponha que seu amigo tem duas notas de R\$5,00 que também teria o valor de R\$10,00, ou seja, o número de notas de R\$2,00 que você tem é equivalente ao número de notas de R\$ 5,00 que seu amigo tem, pois ambos tem o mesmo valor final. Vamos observar a imagem abaixo:

Eu tenho três imagens iguais, representando frações diferentes, pois as mesmas representam a mesma parte da figura, se você observar bem, verá que as três imagens estão preenchidas pela metade, e se você fizer a divisão dessa fração irá observar que o resultado de todas será o mesmo, veja o exemplo:

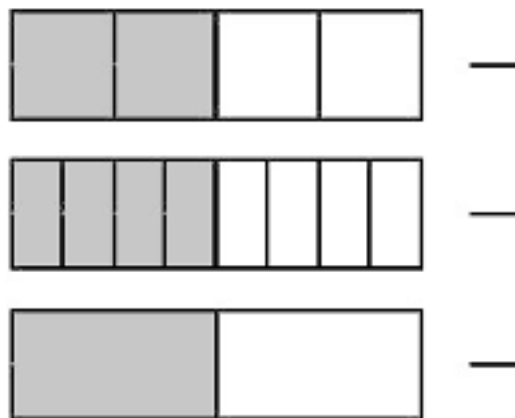
$$1/2 = 0,5 \quad 2/4 = 0,5 \quad 4/8 = 0,5$$



Ou seja, todas as frações representam o mesmo valor. E sendo assim, são chamadas de fração equivalente.

Vamos a atividade!

1. Observe a figura abaixo e escreva ao lado a fração que ela representa e responda se as figuras são equivalentes e porque?



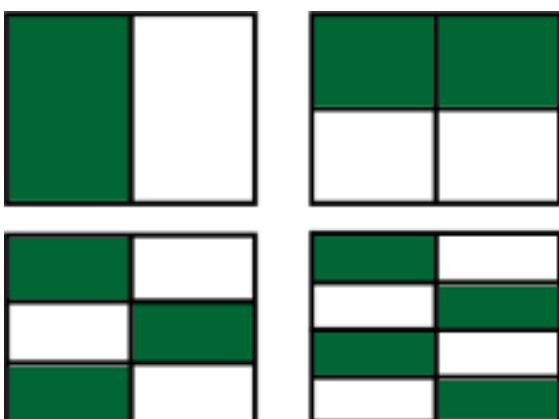
2. Quais das frações abaixo são equivalentes?

- a) $\frac{10}{16}$ b) $\frac{15}{24}$ c) $\frac{25}{40}$ d) $\frac{20}{16}$ e) $\frac{30}{56}$

3. Encontre a fração equivalente a $\frac{2}{5}$ que tenha como denominador o número 15. Você pode encontrar essa fração multiplicando seus dois termos por um mesmo número.

4. Desenhe as frações que representam $\frac{1}{2}$, $\frac{5}{10}$ e $\frac{8}{10}$ e responda se elas são equivalentes, e o porque?

5. Escreva a representação das frações da figura abaixo e diga se elas são equivalentes



ORIENTAÇÕES

Essa atividade deverá ser realizada de acordo com os pontos abaixo:

- Preencher o cabeçalho;
 - Ler o texto;
 - Responder a atividade.
-

Leia o texto.


RIQUEZAS NATURAIS DO MUNICÍPIO DE GUAMARÉ

O município de Guamaré está localizado em uma área banhada pelo mar, ou seja, é um município que está inserido no sistema costeiro marinho. Isso quer dizer que existem algumas peculiaridades na formação de sua geografia, vegetação, clima e solo, por exemplo. Porém, diferente do litoral sul do estado do Rio Grande do Norte, a sua vegetação tem uma formação diferenciada, semelhante à vegetação do semiárido do estado (bioma da caatinga) influenciada pela condição climática e posição geográfica do município. Além disso, possui outras vegetações características do ambiente costeiro como a vegetação de Mangue e Restinga.

Essas três vegetações têm suas características próprias e influenciam a flora e fauna local, veja os exemplos e suas descrições:

Mangue:

Vegetação de água salgada, localiza-se na transição do ambiente aquático com o terrestre. É considerado berçário de muitas espécies de peixe marinho. É adaptada a essas condições ambientais salinas e ao aumento e diminuição da água do mar e/ou estuário. Existem oito principais espécies de árvores de mangue.



Fonte: <https://g1.globo.com/rn/rio-grande-do-norte/noticia/no-rn-guamare-abre-as-portas-para-o-turismo-de-vivencia-salinas-e-gamboas-ja-sao-atracoes.ghtml>

Caatinga:

Bioma exclusivamente brasileiro e característico do nordeste brasileiro, é marcado por apresentar vegetação adaptada a irregularidade hídrica e intensa insolação durante longos meses do ano, onde suas árvores perdem a folhagem como forma de sobrevivência.



Fonte: <https://nordesterural.com.br/plantas-naturais-da-caatinga-podem-ser-usadas-como-forragem-para-os-animais/>

Restinga:

Vegetação que se encontra em terreno arenoso e salino ao longo da faixa de areia da praia. É influenciada pela topografia do terreno, apresentando gramíneas e pequenos arbustos adaptados às condições do solo e clima costeiros.





Fonte: <https://g1.globo.com/rn/rio-grande-do-norte/noticia/no-rn-guamare-abre-as-portas-para-o-turismo-de-vivencia-salinas-e-gamboas-ja-sao-atracoes.ghtml>

Questão 1

Quais são os principais tipos de vegetação do município de Guamaré?

Questão 2 - Faça a correlação entre os itens:

A		Vegetação adaptada às condições de seca e calor, perde sua folhagem durante os meses de estiagem para manter se viva. Está presente em solos arenosos e suas árvores em geral são espinhosas.
B		Vegetação que se desenvolve em faixa de areia, recebe influência do mar e apresenta diferentes tipos de gramíneas e arbustos. É adaptada a solo arenoso e salgado.
C		Vegetação que é adaptada a água salgada, está localizada em áreas alagadas e lamacentas. Encontradas em rios e mar. Também é considerada importante local para a vida marinha.

Vegetação adaptada às condições de seca e calor, perde sua folhagem durante os meses de estiagem para manter se viva. Está presente em solos arenosos e suas árvores em geral são espinhosas.

Vegetação que se desenvolve em faixa de areia, recebe influência do mar e apresenta diferentes tipos de gramíneas e arbustos. É adaptada a solo arenoso e salgado.

Vegetação que é adaptada a água salgada, está localizada em áreas alagadas e lamacentas. Encontradas em rios e mar. Também é considerada importante local para a vida marinha.

O município de Guamaré possui um clima do tipo muito quente e semiárido, com estação chuvosa atrasando-se para o outono, precipitação pluviométrica anual de 711,4 mm, período chuvoso de fevereiro a maio, temperatura média anual em torno de 27,2°C e umidade relativa média anual de 68%. Encontra-se totalmente inserido nos domínios da bacia hidrográfica Piranhas-Açu, sendo banhado pela sub bacia do Rio Camurupim. Os principais tributários são os rios Acauã, do Saco, Carnaúba, Araruá e Miacaba e os riachos da Mutuca, Barrentas e Santa Maria, sendo, a Norte, banhado pelo Oceano Atlântico. Os principais açudes são: o Gargalheiras ou Marechal Dutra (40.000.000m³ /público) e o Acari ou da Prefeitura (285.000m³ /público). Na porção Norte do município localiza-se a maior concentração de lagoas, as principais são: Doce, Salgada, Cajarana, de Baixo e do Cravo.

Questão 3

Segundo o texto, quais são as principais características do clima do município de Guamaré?

Questão 4

De acordo com o texto, quais são os principais rios do município de Guamaré?

Questão 5

Segundo o texto, quais são os principais açudes do município de Guamaré?

ORIENTAÇÕES

Essa atividade deverá ser realizada de acordo com os pontos abaixo:

- Preencher o cabeçalho;
- Ler o texto;
- Responder a atividade.

.....

PRÁTICAS CORPORAIS DE AVENTURAS NA NATUREZA: **RAPEL**

Os termos esporte radical, de aventura ou de ação são usados para designar desportos com maior grau de risco físico, dado às condições de altura, velocidade ou outras variantes em que são praticados.



Rapel é uma técnica vertical praticada com uso de cordas e equipamentos adequados para a descida de paredões e vãos livres bem como outras edificações.

Trata-se de uma atividade criada a partir das técnicas do alpinismo o que significa que requer preocupação com a segurança do praticante. Este deve ter instruções básicas e acompanhamento de especialistas. Cursos preparatórios são indispensáveis.

Categorias de Rapel:

- Rapel em Positivo: quando os pés têm contato com a parede, durante a descida.
- Rapel em Negativo: quando praticado em vãos livres, onde não há contato dos pés com a parede.



Rapel positivo



Rapel negativo

Para cada técnica é possível realizar algumas manobras como saltos, giros e descidas de ponta-cabeça.

Cuidados:

Toda prática de rapel deve ser executada em grupo, pois um integrante é sempre responsável pela vida de outro.

Toda descida deve ter no mínimo três participantes:

- O que aborda: que é o responsável por colocar o praticante na corda, conferir se seu equipamento está correto e orientá-lo no momento da abordagem.
- O que desce: Que é o praticante atual, ou seja, quem vai fazer a descida.
- O que faz a segurança: Que é a pessoa que vai estar lá em baixo, segurando a corda, atento a qualquer vacilo que o que desce possa dar.

Quem fica responsável pela segurança da descida, deve ter total atenção, pois com ele fica o último recurso antes de uma fatalidade. Se alguém que está descendo perde o controle de sua descida, é o segurança quem vai ter que fazer o bloqueio dele na corda, ou seja, parar a sua queda e evitar que ele caia.

ATIVIDADE DE FIXAÇÃO

1 - Como podemos caracterizar os esportes radicais de aventura na natureza?

2 - Complete as frases de acordo com o texto

A) Rapel é uma técnica _____ praticada com uso de _____ e equipamentos adequados para a _____ de paredões e vãos livres bem como outras edificações.

B) Para cada técnica é possível realizar algumas manobras como _____, _____ e descidas de _____.

3 - Quais são as duas categorias do esporte Rapel?

ORIENTAÇÕES

Essa atividade deverá ser realizada de acordo com os pontos abaixo:

- Preencher o cabeçalho;
- Ler o texto;
- Responder a atividade.

.....

Questão 01

Hello, my dear!

As we study a new language, we also investigate the culture of its people. In this topic, we will learn a little about some points regarding the presidents of the United States. The country is in its 45th leader. Search and circle only the names of people who were presidents in the USA. (Ao estudarmos um novo idioma, investigamos também a cultura de seu povo. Neste tópico, vamos aprender um pouco sobre alguns pontos relativos aos presidentes dos Estados Unidos. O país se encontra em seu 45º dirigente. Pesquise e circule somente os nomes de pessoas que foram presidentes nos EUA).



- | | | | |
|-----------------|-----------------|----------------|-------------------|
| Beyoncé | Kim Kardashian | George Bush | Elvis Presley |
| Taylor Swift | Katy Perry | Barack Obama | George Washington |
| William Clinton | Harry Trumman | Jay-Z | Drake |
| Donald Trump | Michael Jackson | Herbert Hoover | John Adams |
| Lady Gaga | John Kennedy | Kylie Jenner | Thomas Jefferson |

Questão 2

Search and relate to their respective national holiday dates and celebrations in the United States. (Pesquise e relacione às suas respectivas datas os feriados nacionais e suas comemorações nos Estados Unidos).

NATIONAL HOLIDAYS IN THE UNITED STATES (FERIADOS NACIONAIS NOS ESTADOS UNIDOS)



- (1) Birthday of Martin Luther King (aniversário de Martin Luther King)
- (2) Thanksgiving day (Dia de Ação de Graças)
- (3) Veterans Day's (Dia dos veteranos)
- (4) Memorial Day (Dia Memorial)
- (5) Independence Day (Dia da Independência dos Estados Unidos)
- (6) Labor Day (Dia do Trabalho)
- (7) President's Day (Dia do Presidente)
- (8) Columbus Day (Dia de Colombo)
- (9) Inauguration Day (Dia da Inauguração)

- Second Monday of October (Segunda segunda-feira de outubro)
- Every 4 years when a new president of the country is installed. It takes place on January 20th. (A cada 4 anos quando é empossado um novo presidente do país. É realizado no dia 20 de janeiro).
- Third Monday of February (Terceira segunda-feira de fevereiro)
- Third Monday of January (Terceira segunda-feira de janeiro)
- First Monday in September (Primeira segunda-feira de setembro)
- Fourth Thursday of November (Quarta quinta-feira de novembro)
- November 11th (11 de novembro)
- Last Monday in May (Última segunda-feira de maio)
- 4th of July (4 de julho)

HOLIDAYS IN THE UNITED STATES (DATAS COMEMORATIVAS NOS ESTADOS UNIDOS)



- (1) Father's Day (Dia dos Pais)
 - (2) Valentine's Day (Dia dos namorados)
 - (3) Halloween (Dia das Bruxas)
 - (4) St. Patrick's Day (Dia de São Patrício)
 - (5) Super Bowl (O jogo final da Liga de Futebol Americano)
-
- () First Sunday of February (Primeiro domingo de fevereiro)
() Third Sunday in June (Terceiro domingo de junho)
() March 17 (17 de março)
() February 14th (14 de fevereiro)
() October 31st (31 de outubro)

Questão 3

Complete the sentences using the following expressions. (Complete as frases utilizando as seguintes expressões).

Good Night - Thank You - Good Morning - Good Afternoon - Bye

- a) _____ usamos para agradecer algo ou alguém.
- b) _____ é uma saudação usada pela manhã.
- c) _____ é uma expressão usada quando saímos de casa e alguém fica em casa.
- d) _____ é a expressão usada quando vamos dormir ou saímos da casa de alguém tarde da noite.
- e) _____ é a saudação usada quando são 3 p.m.

Questão 4

Write the text in Portuguese. (Escreva o texto em português).

My house is very big and great. There are three bedrooms, a big kitchen, two bathrooms, a dining room, a living room and a garage for two cars. I like to play soccer in the yard with my friends and watch TV in my bedroom at night.

Questão 5

Do the calculation and write the result in English. (Faça o cálculo e escreva o resultado em inglês).

a) zero + one = _____ f) one + one = _____ k) one + two = _____

b) two + two = _____ g) three + two = _____ l) four + two = _____

c) five + two = _____ h) five + three = _____ m) seven + two = _____

d) five + five = _____ i) nine + two = _____ n) nine + three = _____

e) nine + four = _____ j) ten + four = _____ o) ten + five = _____

CARPE DIEM!!!!



PREFEITURA DE
GUAMARÉ
TRABALHANDO POR VOCÊ

SECRETARIA DE
EDUCAÇÃO

Responsáveis pela elaboração das atividades

.....

Língua Portuguesa:

Juliana Fernandes Gonçalves
Maria da Conceição dos Santos

Matemática:

Kércia de Araújo Melo dos Santos

Educação Física:


Manoel Alves da Silva Neto

Geografia:

Rodrigo Quirambú da Silva

Língua Inglesa:

Marta Joelma Bezerra



PREFEITURA DE
GUAMARÉ

SECRETARIA DE
EDUCAÇÃO

