


QUESTÃO 01

PARA ENTENDER MELHOR SOBRE OS ESPORTES BASTA
ESCREVER O NOME DAS RESPECTIVAS MODALIDADES ABAIXO:









QUESTÃO 02

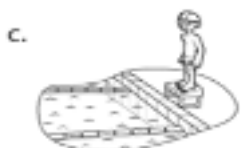
RELACIONE A COLUNA DA DIREITA COM A COLUNA DA
ESQUERDA:



() NATAÇÃO



() FUTEBOL




() BASQUETE



() TÊNIS

VISÃO DO BAIRRO:

BAIRRO É UMA COMUNIDADE OU REGIÃO LOCALIZADA DENTRO DE UMA CIDADE OU MUNICÍPIO, SENDO A UNIDADE MÍNIMA DE URBANIZAÇÃO E EXISTE NA MAIORIA DAS CIDADES DO MUNDO. SENDO ASSIM OBSERVE A IMAGEM DE BAIRRO ABAIXO E RESPONDA AS REFERIDA QUESTÕES:



QUESTÃO 01:

MOSTRE QUE VOCÊ É UM BOM OBSERVADOR E RESPONDA:

A) DE ACORDO COM A ILUSTRAÇÃO, O QUE ESTÁ NO CENTRO?

B) O QUE ESTÁ A DIREITA DA IGREJA?

C) O QUE ESTÁ EM FRENTE À IGREJA?

D) O QUE SE LOCALIZA A ESQUERDA DA IGREJA?

E) O QUE ESTÁ LOCALIZADO A ESQUERDA DA PRAÇA?

QUESTÃO 01:

ESCREVA OS NOMES DAS FRUTAS EM INGLÊS:



QUESTÃO 02:

ORGANIZE AS PALAVRAS ABAIXO DE ACORDO COM AS INICIAIS:

LEMON APPLE ORANGE PINEAPPLE GRAPE
MANGO PEAR BANANA WATERMELON MELON

A	B	G	L

M	O	P	W

LEIA COM ATENÇÃO O TEXTO E RESPONDA AS QUESTÕES ABAIXO:



O MENINO E A ÁRVORE

ERA UMA VEZ UMA ÁRVORE
QUE AMAVA UM MENINO.
E TODOS OS DIAS
O MENINO
VINHA,
JUNTAVA
SUAS
FOLHAS
E COM ELAS FAZIA
COROAS DE REI;
COM ELAS BRINCAVA
DE REI DA FLORESTA.
SUBIA EM SEU GROSSO TRONCO,
BALANÇAVA-SE EM SEUS GALHOS,
COMIA SUAS MAÇÃS.
E BRINCAVAM
DE ESCONDER.
QUANDO FICAVA CANSADO,
O MENINO REPOUSAVA
À SUA SOMBRA FRESQUINHA.
O MENINO AMAVA A ÁRVORE
PROFUNDAMENTE.
E A ÁRVORE ERA FELIZ.



S. Silverstein - tradução de Fernando Sabino

QUESTÃO 01:

RESPONDA DE ACORDO COM O TEXTO:

A) QUAL O TITULO DO TEXTO?

B) QUAL O ASSUNTO O TEXTO ESTÁ SE REFERINDO?

C) QUE ALIMENTO A ÁRVORE FORNECIA PARA O MENINO?

D) QUANDO O MENINO ESTAVA CANSADO COSTUMAVA FAZER O QUE?

QUESTÃO 02:

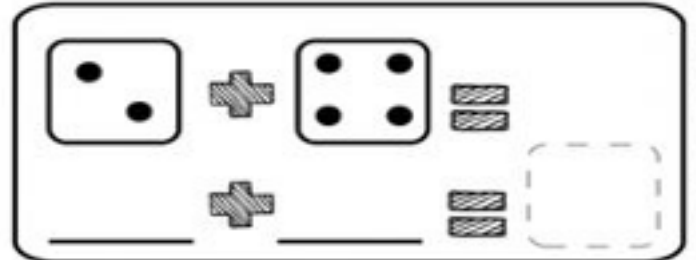
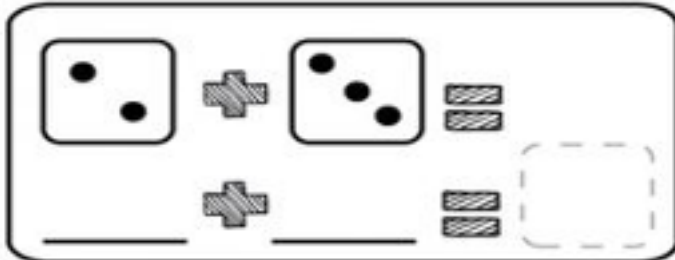
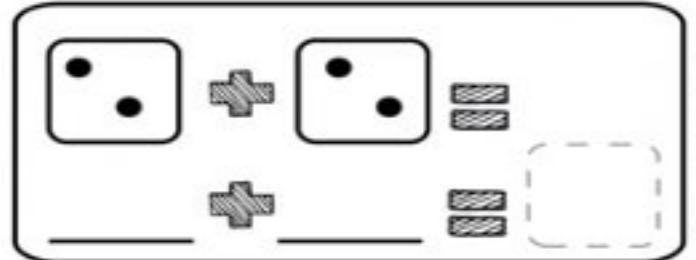
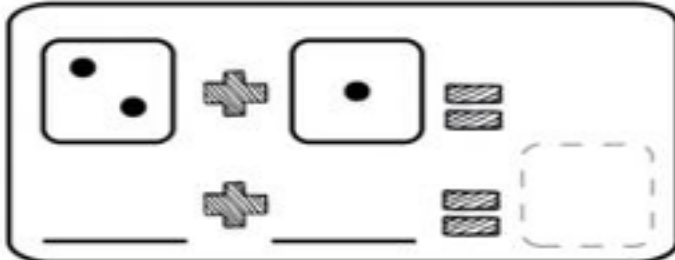
ENCONTRE NO TEXTO E ESCREVA ABAIXO AS PALAVRAS INICIADAS COM AS LETRAS A, B E C.

A	B	C

QUESTÃO 01

SOME DE ACORDO COM A QUANTIDADE ILUSTRADA NO DADO:

0 1 2 3 4 5 6 7 8 9



QUESTÃO 02:

DENTRO DA MATEMÁTICA EXISTE UM NÚMERO ANTES E OUTRO DEPOIS, ESCREVA NO ESPAÇO ABAIXO OS NÚMEROS QUE VEM ANTES E DEPOIS DE CADA ALGARISMO:

1 6 8 4 9

QUESTÃO 03:

LEIA OS NUMERAIS E ESCREVA POR EXTENSO NO LUGAR CORRESPONDENTE:

1- _____ 4- _____

2- _____ 5- _____

3- _____ 6- _____



PREFEITURA DE
GUAMARÉ
TRABALHANDO POR VOCÊ

SECRETARIA DE
EDUCAÇÃO

Responsável pela elaboração das atividades

.....

Jhefersson Alexandre



PREFEITURA DE
GUAMARÉ

SECRETARIA DE
EDUCAÇÃO