

3P

EDUCAÇÃO DE JOVENS E ADULTOS | 3º PERÍODO

Turma:

Escola:

Aluno:

Caderno de
Atividades

JOVENS E ADULTOS

Semana
23

**Dia
Nacional
do Livro
Infantil**
18 de Abril



PREFEITURA DE
GUAMARÉ
TRABALHANDO POR VOCÊ

SECRETARIA DE
EDUCAÇÃO

ESCOLA
em casa



1. LEIA E OBSERVE ATENTAMENTE A CAPA DA REVISTA ABAIXO E EM SEGUIDA RESPONDA AS QUESTÕES.



A) QUAL É O NOME DA REVISTA?

B) POR QUE VOCÊ ACREDITA QUE A REVISTA TEM ESSE NOME?

C) QUAL É O ASSUNTO PRINCIPAL DESSA EDIÇÃO DA REVISTA?

2. UM DOS ARTIGOS DIVULGADOS NESSA REVISTA TEM POR TÍTULO.

**POR QUE DEVEMOS NOS PREOCUPAR
COM A EXTINÇÃO DAS ESPÉCIES?**

a) DO QUE VOCÊ ACREDITA QUE O TEXTO VAI TRATAR?

b) VOCÊ SABE O QUE É EXTINÇÃO?

c) A QUAIS ESPÉCIES VOCÊ IMAGINA QUE O TEXTO SE REFERE?

d) COMO VOCÊ RESPONDERIA À PERGUNTA DO TÍTULO?

3. GRIFE NAS FRASES ABAIXO AS PALAVRAS COM ENCONTRO CONSONANTAIS.

a) VARIAS ESPÉCIES ESTÃO AMEAÇADAS DE EXTINÇÃO NO MUNDO EM DECORRÊNCIA DA DESTRUÇÃO DO AMBIENTE.

b) O URSO POLAR ESTÁ CLASSIFICADO COMO VULNERÁVEL.

c) OBSERVA-SE UM DECRESCIMOS NA POPULAÇÃO DA ONÇA PINTADA.

d) A EXTINÇÃO É UM PROCESSO NATURAL QUE ACONTECE COM DIVERSAS ESPÉCIES AO LONGO DA HISTÓRIA DO NOSSO PLANETA.

4. AGORA CIRCULE OS ENCONTROS VOCÁLICOS.

a) A BALEIA-AZUL ESTÁ CLASSIFICADA COMO ESPÉCIE EM PERIGO.

b) O TAMANDUÁ-BANDEIRA É UM ANIMAL QUE ESTÁ CLASSIFICADO COMO VULNERÁVEL.

c) ATUALMENTE, A POPULAÇÃO PINGUIM-AFRICANO ESTÁ DIMINUINDO.

d) A TENDÊNCIA POPULACIONAL DO MICO-LEÃO-DOURADO.

5. COLE NO ESPAÇO ABAIXO PALAVRAS COM ENCONTROS CONSONANTAIS E ENCONTROS VOCÁLICOS.

ENCONTRO VOCÁLICO	X	ENCONTRO CONSONANTAL
-------------------	----------	----------------------

1. UM GRUPO DE CRIADORES DE ANIMAIS POSSUI EM UMA DETERMINADA REGIÃO BRASILEIRA OS SEGUINTE ANIMAIS DESCRITOS NA TABELA ABAIXO E COM PREÇO UNITARIO DE CADA ANIMAL, COMPLETE A TABELA ABAIXO.

NOME	ANIMAL	UNIDADES	PREÇO UNITÁRIO R\$	PREÇO TOTAL R\$
MARCOS	BOVINOS	10	3.000,00	
PAULO	CAPRINOS	21	250,00	5.250,00
MARTA	SUINOS	02	300,00	
MÔNICA	EQUINO	05	210,00	
JOSÉ	OUVINOS	15	260,00	3.900,00
	TOTAL			40.800,00

2. OBSERVANDO A TABELA DA QUESTÃO ANTERIOR.

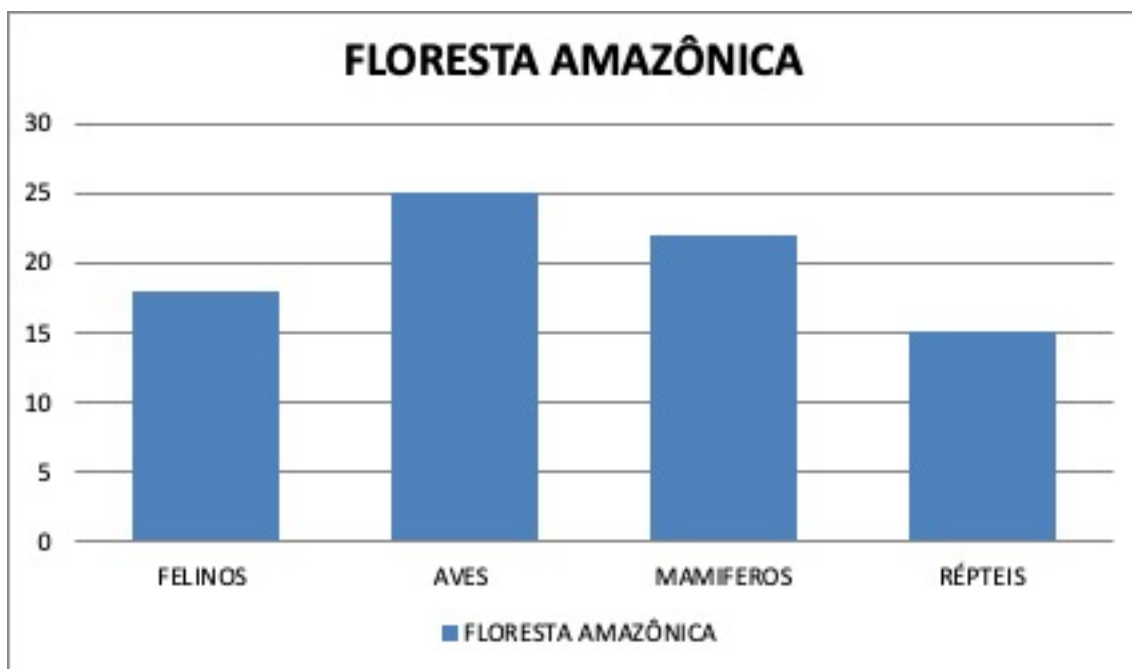
A) QUAIS DESSES ANIMAIS CITADO NA TABELA ACIMA É MAIS VALIOSO?

B) QUAL É O VALOR UNITÁRIO DO CAPRINO?

C) QUAL É O VALOR TOTAL DE TODOS OS ANIMAIS?

3. SE PAULO E JOSÉ VENDER TODOS OS ANIMAIS DO REBANHO, QUANTO PAULO FICARÁ A MAIS DO QUE JOSÉ?

4. EM UMA PESQUISA REALIZADA NA FAUNA E NA FLORA BRASILEIRA FORAM ENCONTRADAS DIVERSAS ESPÉCIES DE ANIMAIS, OS QUAIS ESTÃO DESCRITOS NO GRÁFICO ABAIXO.



- A) QUAL FOI A ESPÉCIE QUE MENOS ENCONTRAMOS?
- B) QUAL É O MAIO NÚMERO DE ESPÉCIE ENCONTRADA?
- C) QUANTAS AVES FORAM ENCONTRADAS?
- D) QUANTOS RÉPTEIS FORAM ENCONTRADOS?

QUESTÃO 5

$$\begin{array}{r} 6532 \\ \times 4 \\ \hline \end{array}$$

$$\begin{array}{r} 345 \\ \times 4 \\ \hline \end{array}$$

$$\begin{array}{r} 4462 \\ \times 3 \\ \hline \end{array}$$

$$\begin{array}{r} 5472 \\ \times 2 \\ \hline \end{array}$$

POLUIÇÃO É A INTRODUÇÃO DE SUBSTÂNCIAS DE INJETAR DE FORMA ACIDENTAL OU INTENCIONAL NO MEIO AMBIENTE, COM CONSEQUÊNCIAS NEGATIVAS PARA OS SERES VIVOS. A POLUIÇÃO PASSOU A SER MAIS INTENSA A PARTIR DA REVOLUÇÃO INDUSTRIAL QUE COMINOU A PARTE DA INDUSTRIALIZAÇÃO. E, TAMBÉM PODE SER DEFERIDA COMO UMA ATIVIDADE QUE DEGRADA O MEIO AMBIENTE, AFETANDO AS CARACTERÍSTICAS FÍSICAS E QUÍMICAS DE DETERMINADO ECOSISTEMA.

1. COM BASE NO TEXTO ACIMA, EM SUA OPINIÃO QUAIS AS MODIFICAÇÕES QUE A POLUIÇÃO PRODUZ AO MEIO AMBIENTE?

2. OBSERVE AS IMAGENS ABAIXO E ESCREVA FRASES O QUE ELAS REPRESENTAM PARA VOCÊ?



3. NA CIDADE EM QUE VOCÊ MORA EXISTE POLUIÇÃO? JUSTIFIQUE.

4. QUAL É A DIFERENÇA ENTRE UM AMBIENTE NATURAL E MODIFICADO?

5. DEVEMOS TER CUIDADO COM O NOSSO MEIO AMBIENTE, POIS SE VIVEMOS EM UM ECOSISTEMA EQUILIBRADO, TEMOS UMA QUALIDADE DE VIDA MELHOR, E PRINCIPALMENTE COM OS ANIMAIS. DIANTE DESSA AFIRMAÇÃO CLASSIFIQUE OS ANIMAIS ABAIXO, COMO: VERTEBRADOS E INVERTEBRADOS.















OBSEVE O MAPA E RESPONDA AS QUESTOES 1, 2 E 3.

1. QUAL ESTADO BRASILEIRO LIDERA O RANKING EM NÚMERO DE QUEIMADAS?

2. QUAL É O NÚMERO DE QUEIMADAS EM MINAS GERAIS?

3. QUAIS ESTADOS DA REGIÃO NORDESTE APARECE NO MAPA COM FOCOS DE QUEIMADAS?

RISCO DE FOGO PERMANECE ELEVADO

O RISCO DE FOGO VAI PERMANECER ELEVADO SOBRE TODO O INTERIOR DO NORDESTE. “É IMPORTANTE LEMBRAR, QUE O MÊS DE OUTUBRO É NORMALMENTE DE POUCA CHUVA NA REGIÃO, MAS ESTE ANO ESTÁ CHOVENDO MENOS DO QUE DEVERIA NO SUL DO PIAUÍ, NO SUL DO MARANHÃO E NO OESTE DA BAHIA”, AFIRMA A METEOROLOGISTA JOSÉLIA PEGORIM. “PARA PIORAR A SITUAÇÃO ESSA PRIMAVERA NÃO SERÁ FAVORÁVEL À CHUVA NESSAS ÁREAS, E A CHUVA NA MAIOR PARTE DO PIAUÍ SÓ DEVE RECOMEÇAR NO FINAL DA ESTAÇÃO”, COMPLETA PEGORIM.

OUTRO AGRAVANTE É O CALOR INTENSO QUE FAZ NA REGIÃO NESTA ÉPOCA DO ANO. EM ÁREAS DO SERTÃO, A TEMPERATURA MÁXIMA ESTÁ CHEGANDO PERTO DOS 40°C DIARIAMENTE. A UMIDADE RELATIVA DO AR EXTREMAMENTE BAIXA, PERTO DE 20% OU MENOS EM MUITOS MUNICÍPIOS DO INTERIOR, AFASTA QUALQUER CHANCE DE CHUVA.



4. QUAIS SÃO OS DOIS PRINCIPAIS GRUPOS DE RISCO QUE PROVOCA O INCENDIO?

5. A IMAGEM ACIMA É UM DOS FATORES DE RISCO PARA O INCENDIO? POR QUÊ? JUSTIFIQUE.

1º DE MAIO

DIA DO TRABALHADOR

AS COMEMORAÇÕES DO PRIMEIRO DE MAIO CONTINUARAM EM CRESCIMENTO E FORAM ABERTAMENTE EXPLORADAS POR GETÚLIO VARGAS, SOBRETUDO NA FASE FINAL DE SEU PRIMEIRO GOVERNO (A PARTIR DE 1940). A AGLOMERAÇÃO DE TRABALHADORES NAS GRANDES CIDADES E A REALIZAÇÃO DE BAILES, MÚSICA AO AR LIVRE, PASSEATAS E DISCURSOS CONTINUARAM SENDO UMA PRÁTICA COMUM DESSE DIA NO PERÍODO DE 1930-1935.

ATUALMENTE, O PRIMEIRO DE MAIO SEGUE COMO FERIADO NACIONAL E, NESSE DIA, SINDICATOS ORGANIZAM GRANDES EVENTOS PARA RECEBER OS TRABALHADORES. NESSES EVENTOS, SÃO REALIZADOS DISCURSOS E PROTESTOS EM DEFESA DOS DIREITOS DESSA CLASSE, ALÉM DE SEREM OFERECIDAS OPÇÕES DE LAZER PARA OS TRABALHADORES PRESENTES.

1. LEIA O TEXTO ACIMA E RESPONDA A SEGUINTE QUESTÃO:

A) QUAL PRESIDENTE EXPLOROU O CRESCIMENTO DAS COMEMORAÇÕES AO DIA DO TRABALHADOR?

B) O QUE ACONTECIA COMO PRÁTICA ROTINEIRA EM COMEMORAÇÃO AO DIA DO TRABALHADOR?

2. DE ACORDO COM O TEXTO, EM QUE DIA SE COMEMORA O DIA DO TRABALHADOR?

A) () 1 DE JUNHO

B) () 1 DE MARÇO


C) () 1 DE MAIO

D) () 1 DE ABRIL

3. ENCONTRE NA CAÇA-PALAVRA NOMES DAS PROFISSÕES

B	I	V	M	J	D	O	U	M	O
N	P	R	O	F	E	S	S	O	R
A	D	X	T	B	N	B	Q	P	A
T	M	K	O	O	T	P	T	O	X
O	E	M	R	M	I	E	A	L	M
R	S	X	I	B	S	H	X	I	É
S	I	O	S	E	T	U	I	C	D
F	O	Z	T	I	A	C	S	I	I
P	D	I	A	R	I	S	T	A	C
G	A	R	Ç	O	M	F	A	L	O



ATOR
BOMBEIRO
DENTISTA
DIARISTA
GARÇOM
MÉDICO
MOTORISTA
POLICIAL
PROFESSOR
TAXISTA



4. ESCREVA NOMES DE PROFISSÕES QUE VOCÊ CONHECE.

5. QUAL A SUA PROFISSÃO, ALÉM DE ESTUDANTE?

6. COLE NO ESPAÇO ABAIXO IMAGENS DE PROFISSÕES QUE VOCÊ CONHECE E EM SEGUIDA ESCREVA OS NOMES DELAS.





1. O QUE OS ANIMAIS ESTÃO FAZENDO?

2. PINTE A IMAGEM ABAIXO DEIXANDO DE ACORDO COM O HABITAT NATURAL.



**O BIOMA MAIS RICO EM BIODIVERSIDADE
DO PLANETA, A MATA ATLÂNTICA.**

3. O QUE VOCÊ ENTENDE POR BIOMA E POR BIODIVERSIDADE?

4. PORQUE É IMPORTANTE CUIDAR DOS ANIMAIS E DO MEIO AMBIENTE?

5. FAÇA NO QUADRO ABAIXO O DESENHO DO ANIMAL QUE VOCÊ MAIS APRECIA.

A large empty rectangular box with a yellow border, intended for drawing a favorite animal.

QUESTÃO 1

TEXTO

PRATICAR ATIVIDADE FÍSICA NA NATUREZA SÓ TEM VANTAGENS E É UMA ALTERNATIVA QUE CONSEGUE ATENDER A TODOS. CICLISMO, CORRIDA, MONTANHAS, SÃO ALGUNS DOS ESPORTES QUE OFERECE CONTATO DIRETO COM A REALIDADE QUE VAI MUITO ALÉM DO AMBIENTE FECHADO.

OBSERVE AS IMAGENS ABAIXO:



EM SUA OPINIÃO, QUAL É A IMPORTÂNCIA DA PRESERVAÇÃO DO MEIO AMBIENTE PARA A PRÁTICA DE ESPORTE?

QUESTÃO 2

QUAIS SÃO AS ATIVIDADES FÍSICAS QUE VOCÊ PODE FAZER DIANTE A NATUREZA?

QUESTÃO 3

QUAL É A DIFERENÇA DE PRATICAR ESPORTE EM UM LUGAR FECHADO (ACADEMIA, ESTÁDIO DE FUTEBOL) PARA UM LUGAR ABERTO (PRAÇA, PARQUES URBANOS)?

QUESTÃO 4

FAÇA UMA PESQUISA E ESCREVA NOS RETÂNGULOS ABAIXO AS ATIVIDADES ESPORTIVAS DESENVOLVIDAS EM PRAÇAS E PARQUES.

QUESTÃO 1

ESCREVA FRASES RELACIONADAS AO CUIDADO QUE DEVEMOS TER COM O MEIO AMBIENTE.

1. _____

2. _____

3. _____

4. _____

5. _____

QUESTÃO 2

ESCREVA PALAVRAS COM AS INICIAIS DAS LETRAS ABAIXO.

R _____

E _____

S _____

P _____

E _____

I _____

T _____

O _____

QUESTÃO 3

VOCÊ CONSEGUE IDENTIFICAR A PALAVRA QUE ESTÁ DESTACADA NO SENTIDO VERTICAL DA QUESTÃO ANTERIOR? QUAL?

QUESTÃO 4

O QUE ELA REPRESENTA PRA VOCÊ?

QUESTÃO 5

MARQUE “V” PARA (VERDADEIRO) E “F” PARA (FALSO). O QUE SIGNIFICA RESPEITASSE?

- SER INIMIGO DE ALGUÉM.
- ME VALORIZAR.
- MENTIR PARA ALGUÉM.
- GOSTAR DE QUEM SOU.




PREFEITURA DE
GUAMARÉ
TRABALHANDO POR VOCÊ

SECRETARIA DE
EDUCAÇÃO

Responsável pela elaboração das atividades

.....

Maricelia Bastos



PREFEITURA DE
GUAMARÉ

SECRETARIA DE
EDUCAÇÃO

