

3P

Escola:

Aluno:



LEIA O TEXTO E RESPONDA AS SEGUINTEs QUESTÕES :

A VIDA EM SOCIEDADE



A vida em grupo é uma exigência da sociedade humana. O homem **necessita** de seus **semelhantes** para sobreviver, perpetuar a espécie e também se realizar plenamente como pessoa. Por outro lado, quando um ser humano é privado do convívio social, quando ele sofre um **isolamento** social, tem prejudicado o desenvolvimento de suas capacidades.

A sociabilidade é a capacidade natural da espécie humana para viver em sociedade. Socialização é o **processo** pelo qual o indivíduo se integra no grupo onde nasceu, assimilando o conjunto de hábitos e costumes característicos deste grupo. Participando da vida e sociedade, aprendendo suas normas, seus valores e costumes, o indivíduo está se socializando.

1. Observe no texto as imagens 1 e 2. Em sua opinião, o que representa cada uma delas?

IMAGEM 1:

IMAGEM 2:

2. Procure no texto as palavras em destaques, faça a separação silábica corretamente.

1.

2.

3.

4.

3. Estamos vivendo em um tempo meio perturbado, estamos vivendo nos dias de hoje um “isolamento social”. O que você tem a falar sobre o isolamento social?

4. Ciente que estamos vivenciando um novo tempo, tempos de mudanças; diante de tantas informações que chega aos nossos olhos e ouvidos, escreva um pequeno texto com o seguinte tema:

O MUNDO TELEVISIVO



5. Encontre no diagrama as seguintes palavras:

- COOPERAÇÃO
- ACOMODAÇÃO
- ASSIMILAÇÃO
- COMPETIÇÃO
- CONFLITO
- AGRUPAMENTO
- SOCIALIZAÇÃO
- FAMÍLIA
- AGREGADO
- VALORES

V	A	L	O	R	E	S	B	D	E	R	R	F	R	T	G	A	S	S	I	L	A	R	E	S	D	F
A	G	R	U	P	A	M	E	N	T	O	T	A	A	G	R	E	G	A	L	D	S	E	A	D	G	H
S	S	D	R	F	C	C	C	O	O	P	E	R	V	A	T	I	V	D	A	D	E	S	O	C	A	L
S	F	G	G	G	C	O	O	P	E	R	A	Ç	A	O	U	J	E	E	J	D	S	O	S	D	A	B
I	L	I	N	A	D	A	M	A	L	A	A	A	L	A	T	E	X	I	Z	S	O	O	O	S	F	C
M	L	I	A	L	O	E	P	E	T	E	C	A	O	S	A	P	O	D	A	D	C	O	C	O	F	V
I	Ç	M	A	I	B	O	E	A	C	A	P	A	R	A	P	A	Z	I	N	H	I	V	I	O	F	V
L	A	R	G	N	E	T	T	O	M	O	T	E	E	D	F	A	M	I	L	I	A	I	E	O	T	C
A	D	F	E	H	D	D	I	D	D	D	D	D	S	D	F	R	A	V	C	A	L	A	D	R	F	D
Ç	L	U	G	A	R	A	Ç	A	I	V	I	O	L	A	O	A	L	A	M	P	I	D	A	R	A	G
A	A	S	C	D	A	A	A	G	R	E	G	A	D	O	E	E	R	T	A	S	Z	O	D	O	V	O
O	E	S	C	A	D	A	O	V	O	J	E	S	U	S	L	U	C	A	S	S	A	T	D	D	A	Z
T	A	T	U	E	D	I	N	A	L	V	A	C	U	R	B	A	C	A	S	A	Ç	A	E	A	C	A
A	T	A	A	R	A	R	T	A	C	O	M	O	D	A	Ç	A	O	O	O	O	A	B	C	D	A	C
E	L	I	M	A	O	G	O	D	O	S	A	A	L	A	D	A	N	I	N	H	O	U	D	E	S	A
H	O	M	E	T	M	U	L	H	E	R	L	A	S	C	A	F	F	O	R	A	D	A	F	D	D	O
D	A	D	O	H	O	M	E	N	S	M	E	N	I	N	O	S	L	I	T	R	O	D	V	F	A	R
S	A	B	E	J	O	T	A	R	A	P	A	D	U	R	A	R	I	A	D	E	D	O	B	F	R	A
C	A	D	F	K	G	R	E	G	R	O	R	I	O	S	F	R	T	A	T	I	A	O	G	N	T	R
A	A	R	T	M	N	A	V	I	O	V	I	O	L	E	T	A	O	N	Ç	A	R	O	E	T	R	F

OS CIDADÃOS E OS NÚMEROS:


1. A matemática sempre teve sua importância na sociedade. A mesma serve para a vida cotidiana e para muitas tarefas nas atividades humanas. Agora faça a representação numérica de cada imagem de acordo com a sua realidade de vida.



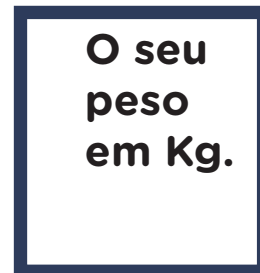
()



()



()



()

2. Qual é o troco?.

COMPLETE A TABELA ABAIXO COMPLETANDO COM O TROCO.		
VOCÊ COMPROU	DEU EM DINHEIRO	RECEBEU DE TROCO
 R\$ 653,00	R\$ 700,00	
 R\$ 33.722,00	R\$ 34.000,00	
 R\$ 120,00	R\$ 200,00	
 R\$ 820,00	R\$ 900,00	

3. O Rio Grande do Norte decretou a medida de isolamento social desde o dia 18 de março do ano em curso. Quantos dias ficaremos isolados se for prorrogado o isolamento até 07 de julho?

4. Escreva numericamente quantas letras tem cada palavra. Depois, classifique-as em par ou ímpar:

SOCIEDADE

ESTABELECENDO

INTERCOMUNICAÇÃO

COMPORTAMENTO

5. Represente os numerais no quadro abaixo:

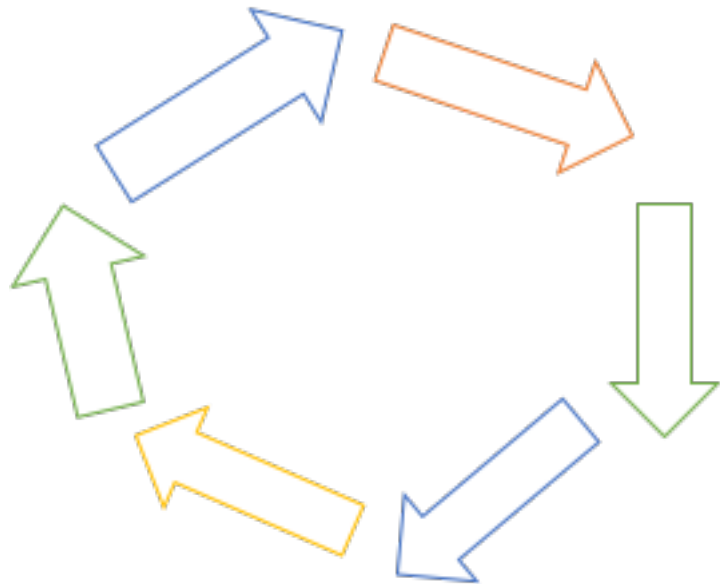
	CENTENA	DEZENA	UNIDADE
123			
432			
456			
891			
321			
179			
216			

Vivemos numa época em que as relações sociais estão se transformando. O uso da tecnologia, como ferramenta de comunicação, facilitou imensamente nosso dia a dia. E, da mesma forma que permitiu a aproximação entre as pessoas, também fez com que muitas relações se pautassem na intermediação de um aparelho eletrônico.

1. Com base no texto acima e seguindo a seta responda a seguinte questão:

O QUE NOS AFETA O AFASTAMENTO SOCIAL EM NOSSO CORPO E EM NOSSA MENTE?

DANOS CAUSADOS PELO
ISOLAMENTO
SOCIAL CORPO E
MENTE



2. Qual a importância do convívio social em casa?

3. Qual a importância do convívio social no lazer?

4. Qual a importância do convívio social no local de trabalho?

5. O que se vê nas duas imagens?



Imagem 1



Imagem 2

Imagem 1:

Imagem 2:

1. Faça uma pesquisa sobre os grupos sociais identificados no esquema abaixo seguir:



2. A vida em sociedade é condição necessária para a sobrevivência de nossa espécie. Assim, a espécie humana sempre formou agrupamentos como as famílias. O que caracteriza um agrupamento social?

Observe a imagem e responda as questões 4 e 5.



4. O que a imagem representa em nossa sociedade?

4. Cite o nome de algum mecanismo de interação social utilizado nos dia de hoje:



Não há mais dúvidas em relação aos benefícios da prática regular de atividades físicas para a saúde em geral. Tão importante quanto à intensidade da atividade física o que importa é frequência, número de vezes semanais em que se faz atividade física e a duração de cada sessão.

.....

De acordo com a imagem e o enunciado acima, responda as seguintes questões:

1. Quantas vezes você pratica atividades físicas por semana?

2. Quais dessas atividades conseguimos fazer individualmente?

3. Quais dessas atividades você costuma praticar em grupo ou coletivamente?

4. Observe minuciosamente... Agora descreva o que cada um está fazendo.

ATIVIDADE 1 _____

ATIVIDADE 9 _____

ATIVIDADE 2 _____

ATIVIDADE 10 _____

ATIVIDADE 3 _____

ATIVIDADE 11 _____

ATIVIDADE 4 _____

ATIVIDADE 12 _____

ATIVIDADE 5 _____

ATIVIDADE 13 _____

ATIVIDADE 6 _____

ATIVIDADE 14 _____

ATIVIDADE 7 _____

ATIVIDADE 15 _____

ATIVIDADE 8 _____

ATIVIDADE 16 _____

5. Diante da situação que estamos vivenciando no mundo inteiro, existe alguma atividade física que podemos estar praticando em casa e mantendo o nosso isolamento social? Qual?

A religiosidade é direito de todos. O fato religioso está presente em diferentes grupos sociais, desde o início da humanidade. A história da arte, da arquitetura; a relação entre sagrado e profano e tantos outros aspectos culturais. As perguntas fundamentais desde a existência da humanidade é:



Questão 01

- De onde vim?
- Para onde vou?
- Que religião devo seguir?

2. A família contribui para o desenvolvimento cultural e religioso dos seres humanos?

- Criar tumulto
- Passear na casa do vizinho
- Enfrentar fila
- Ficar em casa

3. Você vê a religiosidade como elemento do desenvolvimento humano? Justifique sua resposta.

4. Veja na imagem que tem características de diversas religiões, em sua opinião as religiões deveriam caminhar lado a lado sem discriminação de crenças?

5. Com as igrejas fechadas nesse período, como você está fazendo para manter sua fé religiosa?

A IMPORTÂNCIA DA ARTE EM NOSSO DIA-A-DIA

É mais do que natural se ouvir falar em arte na vida das pessoas. A vida em sua existência humana já é a própria arte da criação divina no amor infinito, afinal são vários os movimentos artísticos na vida, a música, cinema, teatro, literatura, pintura, artesanato, artes plásticas, enfim...



1. A arte é uma forma de nós seres humanos expressarmos nossas emoções, nossa história e também nossa cultura. De acordo com a nossa realidade, qual o tipo de arte praticamos diariamente?

2. A arte que produzimos no dia-a-dia, nos dá um entendimento de um mundo mais amplo, nesse sentido, fazemos o seguinte questionamento: por que a arte é tão importante na vida dos seres humanos?

3. Diante de tantas informações a respeito do mundo das artes, podemos afirmar que a arte é um dom. Cite três tipos de artes que você costuma praticar no dia-a-dia.

4. Arte tem um importante papel na saúde humana, existem diversos tratamento de saúde feito através das artes. Cite dois tipos de tratamentos para a saúde mental.

5. Relacione a segunda coluna de acordo com a primeira:

a. Música

()



b. Pintura

()



c. Fotografia

()



d. Dança

()



NOSSA TERRA, NOSSA CIDADE, NOSSA CASA... NOSSO ESPAÇO!



Vivemos numa sociedade que, valoriza as pessoas pelos objetos que possuem. O desenvolvimento econômico de um país está associado a capacidade de produzir e consumir bens materiais e outros serviços. No entanto, diante da atual situação que estamos vivendo de confinamento social, pesquisas indicam que as pessoas estão consumindo menos objetos e mais alimentos.

.....

O espaço público é aquele de uso comum e posse de todos. Nestes locais desenvolvemos atividades coletivas, como o convívio de diversos grupos que chamamos de sociedade.

1. O que você entende por espaço público?

2. O lugar onde você mora existem praças, parques ou outros tipos de espaço onde as pessoas possam viver em coletividade?

3. A manutenção dos espaços públicos é de responsabilidade do município, estado ou união, mas, nós como cidadãos brasileiros temos o dever e a obrigação de fazer o que?

UM POUCO DE GUAMARÉ

O município de Guamaré pertence ao estado Rio Grande do Norte, ele fica localizado na latitude -5.10619 e longitude -36.3222. A sua extensão territorial é 258,958 km², com uma população é de 12.404 e com uma estimativa para 2019 de 15.349 habitantes segundo dados do IBGE, a pessoa que nasce em Guamaré é chamada de guamareense.

4. Com base no texto acima, preencha a tabela abaixo:

PESQUISAR	RESULTADO
QUAL A LOCALIZAÇÃO DA CIDADE DE GUAMARÉ?	
QUAL É O TAMANHO DO TERRITÓRIO DE GUAMARÉ?	
QUAL A POPULAÇÃO DE GUAMARÉ?	
COMO SE CHAMA QUEM NASCE EM GUAMARÉ?	



PREFEITURA DE
GUAMARÉ
TRABALHANDO POR VOCÊ

SECRETARIA DE
EDUCAÇÃO

Responsável pela elaboração das atividades

.....

José Maria de França



PREFEITURA DE
GUAMARÉ

SECRETARIA DE
EDUCAÇÃO