

2P

EDUCAÇÃO DE JOVENS E ADULTOS | 2º PERÍODO Turma:

Escola:

Aluno:



PREFEITURA DE
GUAMARÉ
TRABALHANDO POR VOCE

SECRETARIA DE
EDUCAÇÃO

TEXTO

A VIDA EM SOCIEDADE



A vida em grupo é uma exigência da sociedade humana. O homem necessita de seus semelhantes para sobreviver, perpetuar a espécie e também se realizar plenamente como pessoa. Por outro lado, quando um ser humano é privado do convívio social, quando ele sofre um isolamento social, tem prejudicado o desenvolvimento de suas capacidades.

A sociabilidade é a capacidade natural da espécie humana para viver em sociedade. Socialização é o processo pelo qual o indivíduo se integra no grupo onde nasceu, assimilando o conjunto de hábitos e costumes característicos deste grupo. Participando da vida e sociedade, aprendendo suas normas, seus valores e costumes, o indivíduo está se socializando.

1. Leia a palavra abaixo e responda.

SOCIEDADE

a. Quantas letras têm a palavra SOCIEDADE?

b. Quantas vogais?

c. Quantas consoantes?


d. Escreva o alfabeto e circule as letras da palavra sociedade.

2. Retire do texto acima 6 palavras com duas sílabas e 6 palavras com três sílabas

a. Palavras com duas sílabas

b. Palavras com três sílabas

3. Escreva uma lista de palavras relacionadas a sociedade.



4. Faça um pequeno resumo sobre o que você entende por viver em sociedade.

5. Recorte e cole imagens que representem a vida em sociedade.

1. No Rio Grande do Norte, demos início ao isolamento social no dia 18 de março de 2020, de acordo com o calendário abaixo, quanto dias tivemos no mês, antes do isolamento social iniciar?

Março 2020						
Domingo	Segunda	Terça	Quarta	Quinta	Sexta	Sábado
1	2	3	4	5	6	7
8	9	10	11	12	13	14
15	16	17	18	19	20	21
22	23	24	25	26	27	28
29	30	31				

- a. 15 b. 17 c. 13 d. 14

2. O resultado acima, é um número?.

- () Par () Ímpar

3. Estamos em isolamento social há 2 meses e 13 dias, contando do dia 18 de março até o dia 31 de maio, conforme indica o calendário abaixo. Quantos dias no total estamos confinados? Estamos em isolamento social há 2 meses e 13 dias, contando do dia 18 de março até o dia 31 de maio, conforme indica o calendário abaixo. Quantos dias no total estamos confinados?

MARÇO							ABRIL							MAIO								
D	S	T	Q	Q	S	S	D	S	T	Q	Q	S	S	D	S	T	Q	Q	S	S		
1	2	3	4	5	6	7	10 - ANO DO CRISTO	1	2	3	4	1 - DIA DO TRABALHO	1	2								
8	9	10	11	12	13	14	12 - PÁSCOA	5	6	7	8	9	10	11	10 - DIA DAS MÃES	10	11	12	13	14	15	16
15	16	17	18	19	20	21	21 - TRADIÇÃO	12	13	14	15	16	17	18	17	18	19	20	21	22	23	
22	23	24	25	26	27	28	19 - DIA DO INDI	19	20	21	22	23	24	25	17	18	19	20	21	22	23	
29	30	31	8 - DIA DA MULHER	26	27	28	29	30	19 - DIA DO INDI	26	27	28	29	30	24	25	26	27	28	29	30	
			29 - INÍCIO DO OUTONO				22 - D. DO BRASIL						31									
			2 - CRESC.	9 - CHEIA	1 - CRESC.	7 - CHEIA	1 - CRESC.	7 - CHEIA	7 - CHEIA	14 - MINO.	7 - CHEIA	14 - MINO.										
			16 - MING.	24 - NOVA	14 - MING.	22 - NOVA	14 - MING.	22 - NOVA	22 - NOVA	30 - CRESC.	22 - NOVA	30 - CRESC.										

- a. 75 b. 76 c. 73 d. 79


4. PROBLEMATIZANDO.



a. As garotas acabaram de chegar do shopping, elas levaram R\$ 500,00 reais para as compras, e gastaram R\$ 358,00. Quantos reais sobraram?

b. Cada uma delas comprou uma blusa que estava na promoção por R\$ 35,00 cada. Quanto elas pagaram juntas pelas blusas?

5. Resolva as operações.

 <hr/> <hr/> <hr/>			$\begin{array}{r} 34 \\ + 22 \\ \hline \end{array}$	$\begin{array}{r} 52 \\ + 16 \\ \hline \end{array}$	$\begin{array}{r} 87 \\ + 11 \\ \hline \end{array}$
			$\begin{array}{r} 26 \\ + 32 \\ \hline \end{array}$	$\begin{array}{r} 12 \\ + 23 \\ \hline \end{array}$	$\begin{array}{r} 15 \\ + 14 \\ \hline \end{array}$
$\begin{array}{r} 23 \\ + 74 \\ \hline \end{array}$	$\begin{array}{r} 68 \\ + 10 \\ \hline \end{array}$	$\begin{array}{r} 56 \\ + 13 \\ \hline \end{array}$	$\begin{array}{r} 43 \\ + 32 \\ \hline \end{array}$	$\begin{array}{r} 26 \\ + 13 \\ \hline \end{array}$	$\begin{array}{r} 55 \\ + 30 \\ \hline \end{array}$
$\begin{array}{r} 25 \\ + 78 \\ \hline \end{array}$	$\begin{array}{r} 64 \\ + 39 \\ \hline \end{array}$	$\begin{array}{r} 47 \\ + 22 \\ \hline \end{array}$	$\begin{array}{r} 67 \\ - 32 \\ \hline \end{array}$	$\begin{array}{r} 26 \\ - 14 \\ \hline \end{array}$	$\begin{array}{r} 98 \\ - 43 \\ \hline \end{array}$
$\begin{array}{r} 79 \\ - 25 \\ \hline \end{array}$	$\begin{array}{r} 86 \\ - 32 \\ \hline \end{array}$	$\begin{array}{r} 90 \\ - 30 \\ \hline \end{array}$	$\begin{array}{r} 53 \\ - 23 \\ \hline \end{array}$	$\begin{array}{r} 92 \\ - 53 \\ \hline \end{array}$	$\begin{array}{r} 95 \\ - 58 \\ \hline \end{array}$

Sabemos que a vida em sociedade é necessária para a sobrevivência de nossa espécie. Diante disso, responda as questões abaixo:

1. Coloque (V) para verdadeiro e (F) para falso

Viver em sociedade é?

- () Viver feliz
- () Viver sozinho
- () Viver em grupo
- () Viver com a família

2. Marque as imagens que melhor representa o isolamento social para você.



3. Marque as atividades sociais que você mais gosta de fazer.

- () Ir à festa
- () ir à igreja
- () jogar futebol
- () passear com os amigos
- () ir à praia
- () sair com a família

4. Cite três acontecimentos de sua vida depois que ficou isolado.

5. Marque apenas uma alternativa.

O que é mais difícil nessa vivência isolada?

- () Ficar em casa sem receber visitas
- () Não poder ir à casa de parentes
- () Ficar sem ir à escola
- () Ficar sem trabalhar

Leio o texto:

.....

A família é o primeiro grupo da maioria das pessoas. A medida que vamos crescendo, passamos a fazer parte de vários outros grupos: a escola, os moradores de rua, o clube, a igreja, o time de futebol...

Cada grupo tem suas regras de funcionamento e normas de convivência entre as pessoas. Em alguns, as regras são escritas, em outros, isso não é necessário.

Em alguns grupos, todos os membros podem participar das decisões. É o caso, por exemplo, de grupos de amigos.

Em outros, alguns membros têm mais poder e tomam decisões em nome do grupo.

QUESTÕES

COM BASE NO TEXTO APRESENTADO RESPONDA AS SEGUINTEs QUESTÕES:

1. Qual o primeiro grupo social do qual fazemos parte?

() Amigos

() Escola

() Família

() Igreja

2. Cite três grupos sociais que você faz parte:

3. Relacione a primeira coluna de acordo com a segunda:

a.



Grupo Religioso

b.



Grupo Político

c.



Grupo de Amigos

d.



Grupo Familiar

e.



Grupo Educativo

4. Recorte e cole imagens de dois grupos sociais de sua preferência.

5. Desenhe seu grupo familiar e identifique cada um deles.

1. Qual tipo de esporte mais usado pela sua comunidade?

2. Você pratica algum tipo de esporte? Qual?

3. Marque as respostas certas.

O que precisamos fazer para ter boa saúde?

() Acordar cedo

() Se alimentar bem


() Dormir tarde

() Fazer caminhadas

() Praticar esportes

() Beber pouca água


5. Com essa situação que estamos passando não podemos sair de casa. Quais dessas atividades você está praticando para manter a sua saúde física?



()



()



()



()



()



()



()

6. Cite três tipos de atividade física que você ou sua família mais pratica nesse período:

1. A amizade é fundamental para se termos uma boa convivência. Marque a alternativa que indica uma convivência saudável.

- a. Respeitar o outro
- b. Ser egoísta
- c. Procurar confusão
- d. Ser impaciente

2. Estamos vivendo um momento crítico.

O que fazer para ter uma boa convivência e preservar a saúde mental?

- a. Criar tumulto
- b. Passear na casa do vizinho
- c. Enfrentar fila
- d. Ficar em casa

3. Cite 2 atitudes que representa uma amizade.

4. Amigo é aquele que...

Marque a alternativa correta.

- a. Cuida
- b. Ajuda
- c. Preocupa-se
- d. Todas alternativas estão corretas.

5. Com as igrejas fechadas nesse período, como você está fazendo para manter a sua fé religiosa?

Marque as opções:

Através da internet

Televisão

Rádio

Com a família

Lendo a bíblia

Faça uma leitura da imagem e responda às questões a seguir.



1. Essas mulheres estão praticando convívio social usando a arte, o que elas estão fazendo?

- a. Lendo
- b. Cantando
- c. Dançando
- d. Pintando

2. Antes do isolamento social muitas pessoas se reuniam para fazer atividades manuais para aproveitarem seu tempo. Você já participou desse tipo de atividade? Qual?

3. Você está aproveitando o isolamento para criar alguma coisa? O quê?

4. Do que mais você sente falta depois do isolamento?

MARQUE APENAS DUAS ALTERNATIVAS.

() Ir à praia

() Conversar com os vizinhos

() Ir as compras

() Visitar à família

() Viajar

5. Represente através de ilustrações que projeto você tem para depois do isolamento?

Vivemos numa sociedade que, valoriza as pessoas pelos objetos que possuem. O desenvolvimento econômico de um país está associado a capacidade de produzir e consumir bens materiais e outros serviços. No entanto, diante da atual situação que estamos vivendo de confinamento social, pesquisas indicam que as pessoas estão consumindo menos objetos e mais alimentos.

1. Você concorda com o texto acima?

2. Liste alguns produtos mais consumidos na sua casa neste período de confinamento.

3. Em sua opinião, com o isolamento social, os produtos ficaram mais caros? Se você concorda, dê exemplos de alguns produtos.

4. Quais foram os primeiros países a adotarem o isolamento social como medida preventiva?

Marque as alternativas correta.

- a. Estados Unidos
- b. Brasil
- c. Espanha
- d. China
- e. França

5. Como está sendo a convivência no seu espaço familiar neste período?

Marque as alternativas correta.

- a. Bom
- b. Ruim
- c. Ótimo
- d. Divertido
- e. Prazeroso
- f. Cansativo



PREFEITURA DE
GUAMARÉ
TRABALHANDO POR VOCÊ

SECRETARIA DE
EDUCAÇÃO

Responsável pela elaboração das atividades

.....

Antônia Eveline Soares da Silva



PREFEITURA DE
GUAMARÉ

SECRETARIA DE
EDUCAÇÃO